

かくにん プリント③

単位量あたりの大きさ

年 組 名前 ()

- 1 A, Bのバンガローの面積と人数を調べました。
2つのバンガローは、どちらがこんでいますか。

バンガローの面積と人数

	面積 (m ²)	人数 (人)
A	16	6
B	15	5

答え ()

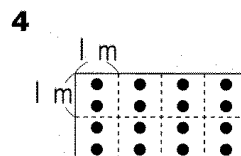
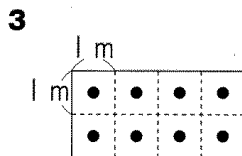
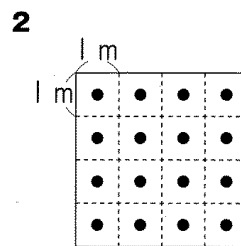
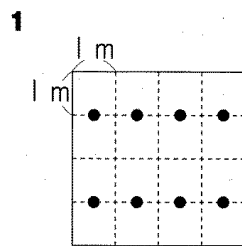
【H26 算数A4】

- 2 Aの部屋の1 m²あたりの人数を調べます。
Aの部屋の面積は8 m²で、部屋の中には16人います。

(1) Aの部屋の様子を表している図はどれですか。下の1から4までの
中から1つ選んで、その番号を書きましょう。

ただし、●は1人を表しています。

	平均正答率
深谷市	54.7%
埼玉県	57.6%
全 国	60.8%



答え ()

(2) Aの部屋の1 mあたりの人数を求める式を書きましょう。

式

	平均正答率
深谷市	80.7%
埼玉県	82.1%
全 国	82.3%