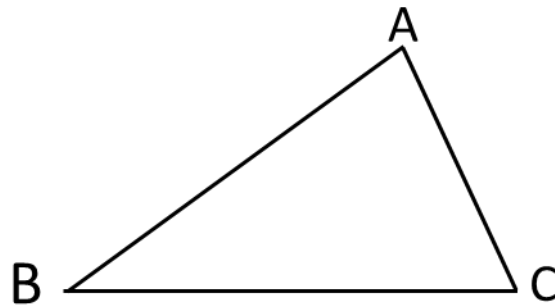


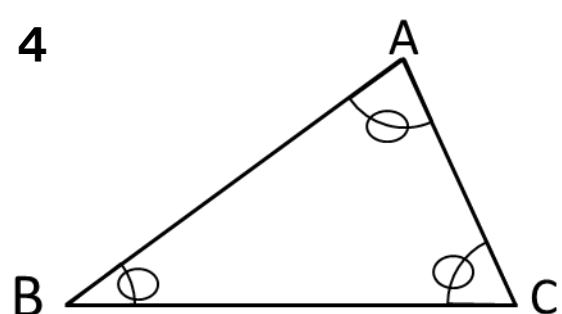
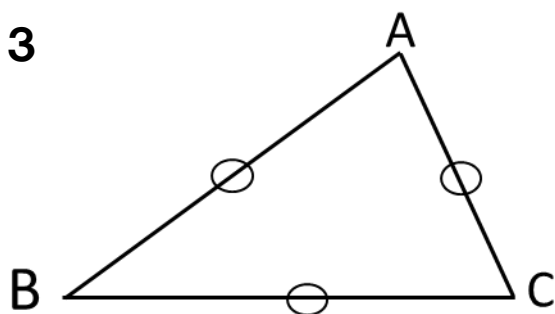
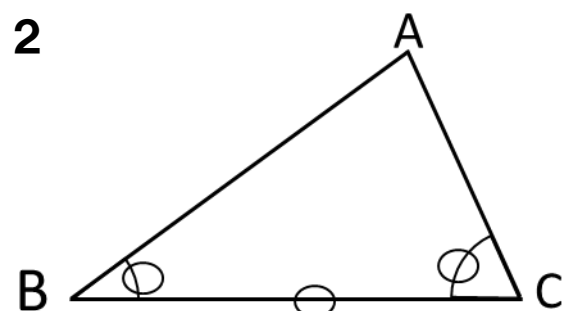
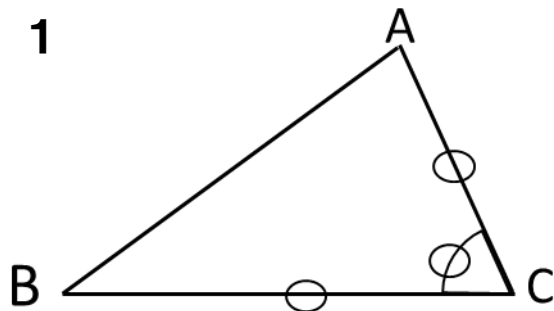
# かくにん プリント④ 合同な図形

年 組 名前 ( )

- 1 下の三角形ABCと合同な三角形をかくために、三角形ABCのどの辺の長さや角の大きさを測ればよいか考えます。

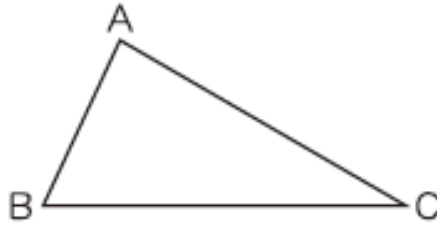


次の 1 から 4 は、辺の長さや角の大きさを測るところに○の印をつけたものです。三角形ABCと合同な三角形をかくことができないものを1つ選んで、その番号を書きましょう。



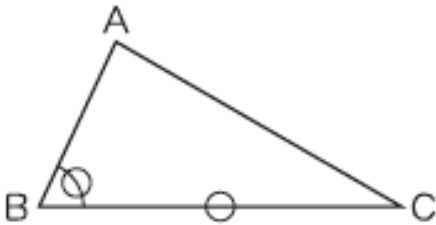
答 ( )

2 下の三角形ABCと合同な三角形をかくために、三角形ABCのどの辺の長さや角の大きさを測ればよいか考えます。

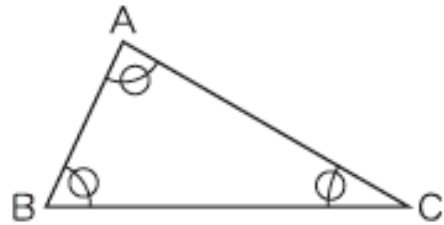


次の 1 から 4 は、辺の長さや角の大きさを測るところに○の印をつけたものです。三角形ABCと合同な三角形をかくことができるものを1つ選んで、その番号を書きましょう。

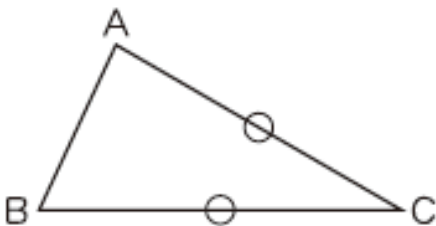
1



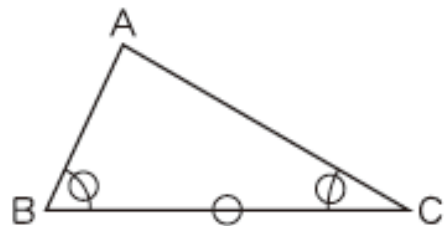
2



3



4



答 ( )